

Opgave 6 – Zuid-Amerika: Economische ontwikkeling in Zuid-Amerika

Bij deze opgave horen de bronnen 14 tot en met 16.

Gebruik bron 14.

- 3p 21 Geef eerst aan van welk land de handelsbalans tussen 2009 en 2019 het meest verslechterd is.
Beredeneer vervolgens welke rol exportvalorisatie kan spelen bij de verbetering van de handelsbalans van een land.

Gebruik bron 15.

- 2p 22 Geef aan
– waaruit blijkt dat deze landen de demografische transitie doorlopen hebben;
– in welk land uit bron 15 het geboortecijfer het laagst is.

Gebruik bron 16.

Vanuit het buitenland wordt veel geld geïnvesteerd in Zuid-Amerika. Hieronder staan twee uitspraken over bron 16.

Uitspraak 1: Het aandeel buitenlandse investeringen uit China is in Peru groter dan in Colombia.

Uitspraak 2: Brazilië is van alle Zuid-Amerikaanse landen het meest afhankelijk van buitenlandse investeringen uit China.

- 1p 23 Geef voor elke uitspraak aan of die juist of onjuist is.

Sinds de jaren 70 heeft een aantal landen in Zuid-Amerika een neoliberal beleid gevoerd om tot economische ontwikkeling te komen. Tegenwoordig komt er steeds meer kritiek op dit neoliberale beleid.

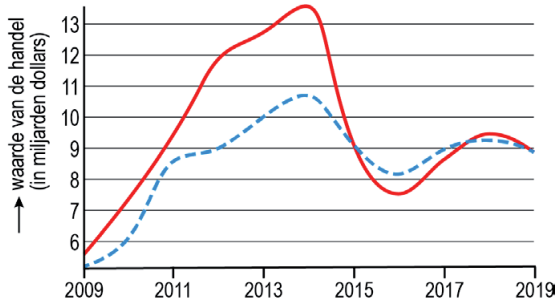
- 3p 24 Geef aan
– waarom liberaal beleid economische ontwikkeling kan stimuleren;
– welk punt van kritiek tegenstanders op het neoliberale beleid hebben;
– welke politieke stroming de laatste jaren steeds meer invloed krijgt in Zuid-Amerika.

Opgave 6 – Zuid-Amerika: Economische ontwikkeling in Zuid-Amerika

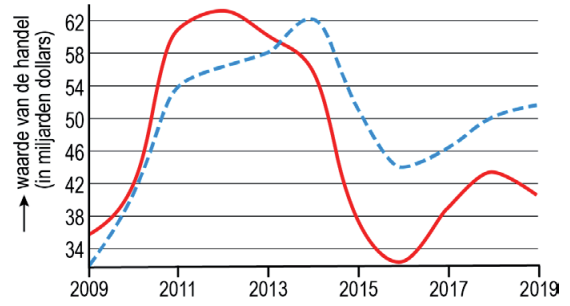
bron 14

Handelsbalans van vier landen in Zuid-Amerika

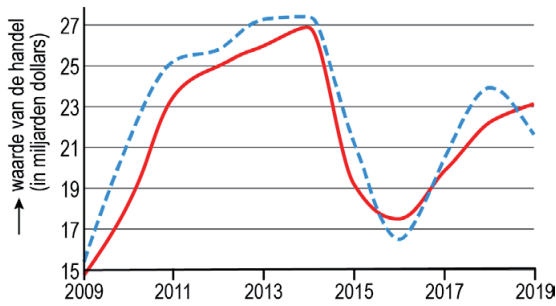
Bolivia



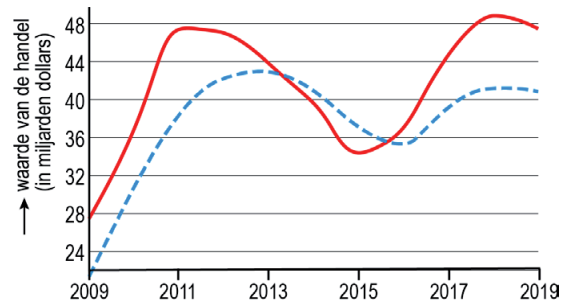
Colombia



Ecuador



Peru

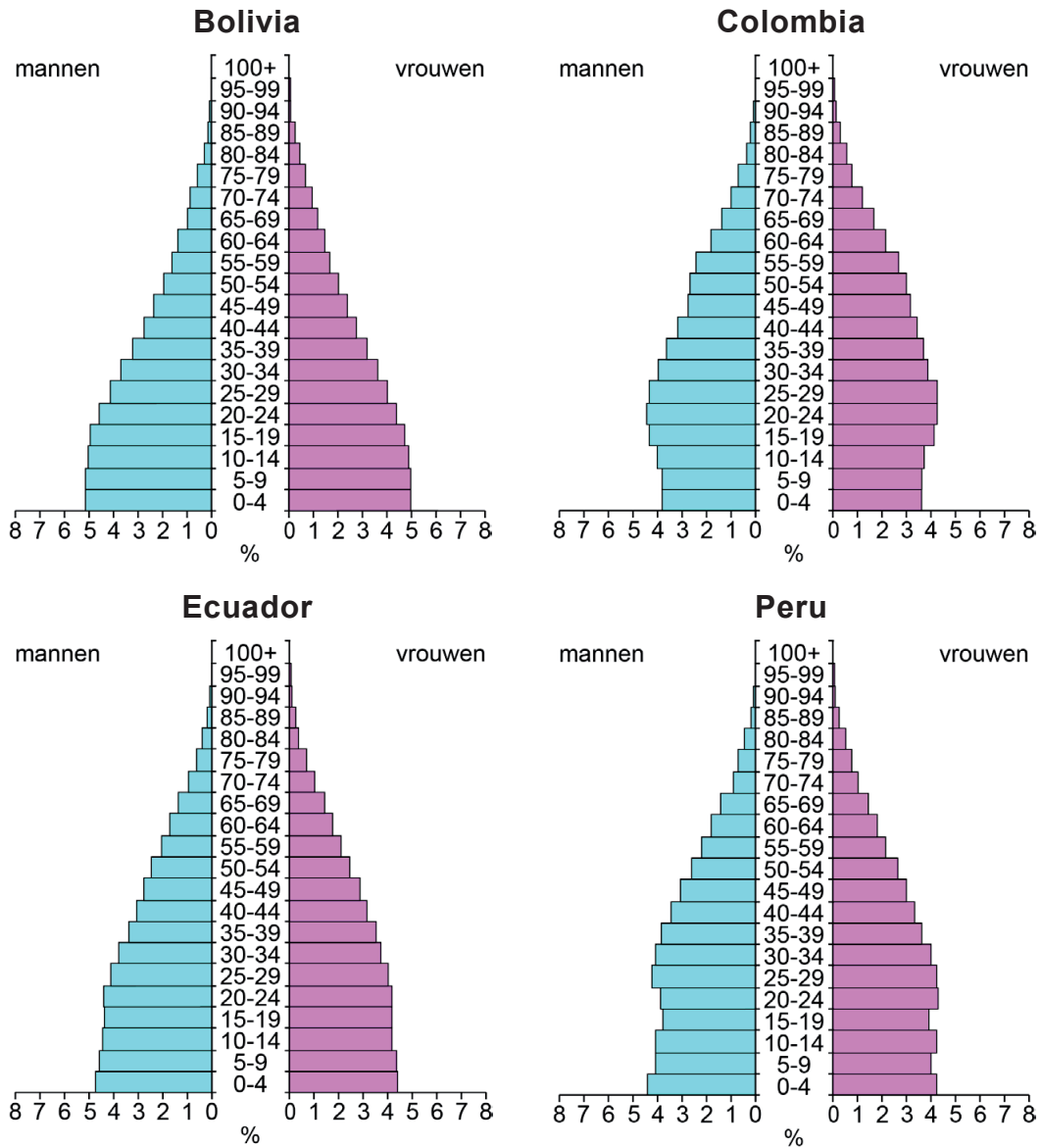


Legenda:

— export - - - import

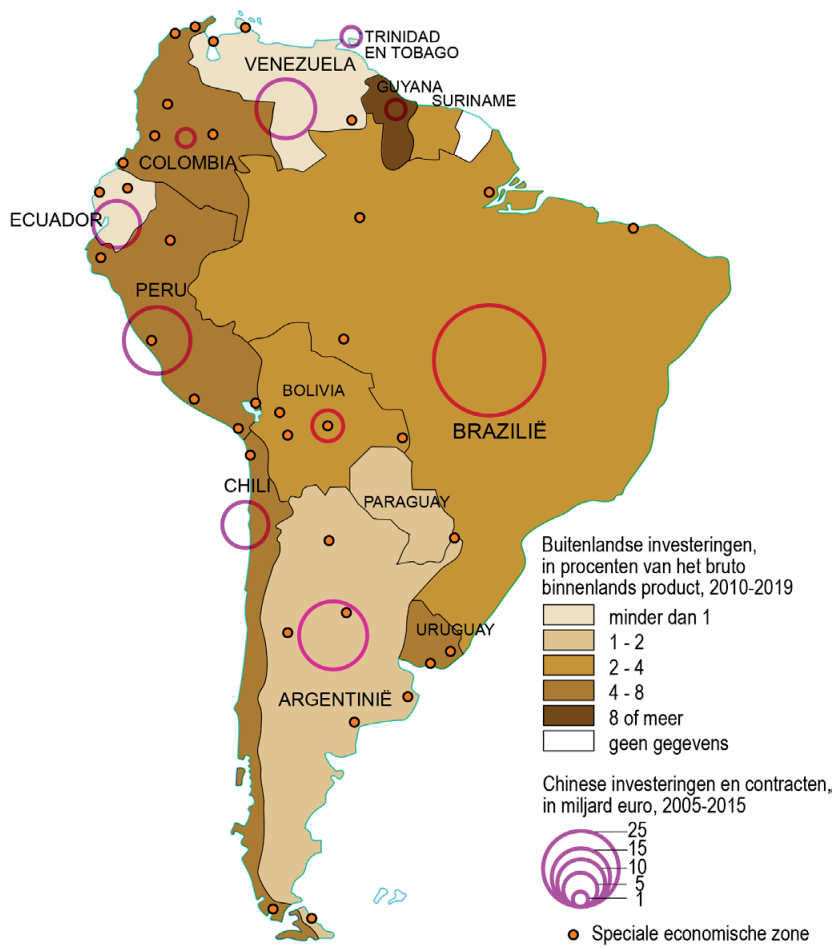
bron 15

Leeftijdsoopbouw van vier landen in Zuid-Amerika (2021)



bron 16

Buitenlandse investeringen



Bronvermelding

Een opsomming van de in dit examen gebruikte bronnen, zoals teksten en afbeeldingen, is te vinden in het bij dit examen behorende correctievoorschrift.